

# Государственная (итоговая) аттестация по ИНФОРМАТИКЕ И ИКТ

## Вариант № 1102

### Инструкция по выполнению работы

На выполнение экзаменационной работы по информатике отводится 2 часа (120 минут). Экзаменационная работа состоит из 3 частей, включающих 23 задания. К выполнению части 3 учащийся переходит, сдав выполненные задания частей 1 и 2 экзаменационной работы. Учащийся может самостоятельно определять время, которое он отводит на выполнение частей 1 и 2, но рекомендуется отводить на выполнение частей 1 и 2 работы 1 час (60 минут) и на выполнение заданий части 3 – также 1 час (60 минут).

При решении заданий частей 1 и 2 **нельзя** пользоваться компьютером, калькулятором, справочной литературой.

Часть 1 включает 8 заданий (1–8) с выбором ответа. К каждому заданию даётся четыре варианта ответа, из которых только один правильный. При выполнении этих заданий обведите кружком **номер** выбранного ответа в экзаменационной работе. Если вы обвели не тот номер, то зачеркните этот обведённый номер крестиком, а затем обведите номер правильного ответа.

Часть 2 включает 12 заданий (9–20) с кратким ответом. Для заданий части 2 ответ записывается в экзаменационной работе в отведённом для этого месте. В случае записи неверного ответа зачеркните его и запишите рядом новый.

Часть 3 представляет собой практическое задание, которое необходимо выполнить на компьютере.

Часть 3 содержит 3 задания (21–23), на которые следует дать развёрнутый ответ. Решением для каждого задания является файл, который необходимо сохранить под именем, указанным организаторами экзамена, в формате, также установленном организаторами.

За каждый правильный ответ в зависимости от сложности задания даётся один или более баллов. Баллы, полученные вами за все выполненные задания, суммируются. Постарайтесь выполнить как можно больше заданий и набрать как можно большее количество баллов.

*Желаем успеха!*

## Часть 1

При выполнении заданий этой части (1–8) обведите номер выбранного ответа кружком. Если вы выбрали не тот номер, зачеркните его и обведите номер правильного ответа.

1 В одном из вариантов кодировки Unicode каждый символ кодируется двумя байтами. Определите количество символов в сообщении, если информационный объём сообщения в этой кодировке равен 480 бит.

- 1) 60                      2) 40                      3) 240                      4) 30

2 Для какого из указанных значений числа  $X$  ложно выражение  $(X > 3)$  ИЛИ НЕ $((X < 4)$  И  $(X > 2))$ ?

- 1) 1                      2) 2                      3) 3                      4) 4

3 Сколько абзацев, с точки зрения набора в текстовом редакторе, содержит следующий фрагмент текста:

*Чу, шу пишу через у. Ча, ща пишу через а. Мы пишем чудо, площадь. Например:¶*

*А еще я играю во что захочу,↵*

*А еще — размышляю о чем захочу,↵*

*А еще — хохочу над чем захочу.¶*

*(А. Милн)¶*

«Ч» и «щ» всегда мягкие и нет необходимости обозначать их мягкость дополнительно буками «ю» и «я».¶

- 1) 8                      2) 6                      3) 3                      4) 4

4 Между населёнными пунктами А, В, С, D построены дороги, протяжённость которых приведена в таблице.

	A	B	C	D
A		2	7	4
B	2		5	1
C	7	5		2
D	4	1	2	

Определите кратчайший путь между пунктами А и С (при условии, что передвигаться можно только по построенным дорогам).

- 1) 4                      2) 5                      3) 6                      4) 7

**5** От разведчика была получена следующая зашифрованная радиogramма, переданная с использованием азбуки Морзе:

--- • ----- ••• ----- ••• --

При передаче радиogramмы было потеряно разбиение на буквы, но известно, что в радиogramме использовались только следующие буквы:

А	Г	М	К	Ю
• -	-- •	--	- • -	•• --

Определите текст радиogramмы. В ответе укажите, сколько букв было в исходной радиogramме.

- 1) 5                      2) 6                      3) 7                      4) 8

**6** Пользователь работал с каталогом **Задачи**. Сначала он поднялся на один уровень вверх, потом ещё раз поднялся на один уровень вверх, затем спустился на один уровень вниз.

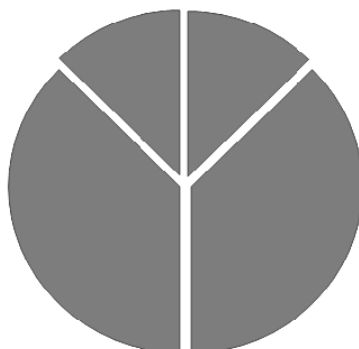
В результате он оказался в каталоге **C:\Документы\Физика**. Запишите полный путь каталога, с которым пользователь начинал работу.

- 1) C:\Физика\Задачи  
 2) C:\Документы\Математика\Задачи  
 3) C:\Документы\Задачи  
 4) C:\Документы\Математика\Алгебра\Задачи

**7** Дан фрагмент электронной таблицы:

	<b>A</b>	<b>B</b>	<b>C</b>	<b>D</b>
<b>1</b>	8	4	3	1
<b>2</b>	=A1/4	=B1+D1*2		=(B1-C1)*2

Какая формула может быть записана в ячейке C2, чтобы построенная после выполнения вычислений диаграмма по значениям диапазона ячеек A2:D2 соответствовала рисунку:



- 1) =A1-D1\*2            2) =D1\*6+2            3) =A1-B1            4) =B1+C1

**8**

Исполнитель Чертежник перемещается на координатной плоскости, оставляя след в виде линии. Чертежник может выполнять команду **Сместиться на  $(a, b)$**  (где  $a, b$  – целые числа), перемещающую Чертежника из точки с координатами  $(x, y)$  в точку с координатами  $(x + a, y + b)$ . Если числа  $a, b$  положительные, значение соответствующей координаты увеличивается, если отрицательные – уменьшается.

Например, если Чертежник находится в точке с координатами  $(4, 2)$ , то команда **Сместиться на  $(2, -3)$**  переместит Чертежника в точку  $(6, -1)$ .

Запись

**Повтори  $k$  раз**

**Команда1 Команда2 Команда3**

**конец**

означает, что последовательность команд **Команда1 Команда2 Команда3** повторится  $k$  раз.

Чертежнику был дан для исполнения следующий алгоритм:

**Повтори 3 раз**

**Сместиться на  $(-3, -2)$  Сместиться на  $(2, 1)$  Сместиться на  $(3, 0)$**

**конец**

Какую команду надо выполнить Чертежнику, чтобы вернуться в исходную точку, из которой он начал движение?

- 1) Сместиться на  $(-6, 3)$
- 2) Сместиться на  $(6, -3)$
- 3) Сместиться на  $(3, 6)$
- 4) Сместиться на  $(-3, -6)$

## Часть 2

*Ответом к заданиям этой части (9–20) является набор символов (букв или цифр), которые следует записать в отведённом в задании поле для записи ответа. Если вы ошиблись, зачеркните ответ и запишите рядом правильный.*

**9**

Информационный объём одного сообщения составляет 0,25 Кбайт, а другого – 512 бит. Во сколько раз информационный объём второго сообщения меньше объёма первого?

Ответ: \_\_\_\_\_.

- 10** В алгоритме, записанном ниже, используются целочисленные переменные  $a$  и  $b$ , а также следующие операции:

Обозначение	Тип операции
$:=$	Присваивание
$+$	Сложение
$-$	Вычитание
$*$	Умножение
$/$	Деление

Определите значение переменной  $a$  после исполнения данного алгоритма:

$a := 3$

$b := 24 - 4 * a$

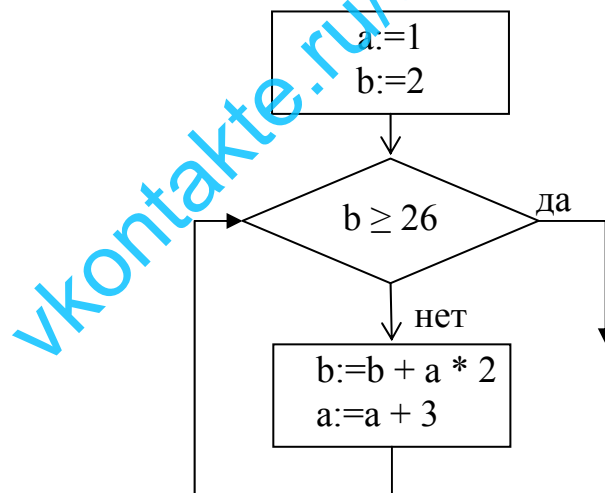
$a := b / a * 2$

Порядок действий соответствует правилам арифметики.

В ответе укажите одно число – значение переменной  $a$ .

Ответ: \_\_\_\_\_.

- 11** Определите значение переменной  $a$  после выполнения фрагмента алгоритма, записанного в виде блок-схемы:



*Примечание: знаком  $:=$  обозначена операция присваивания.*

В ответе укажите одно число – значение переменной  $a$ .

Ответ: \_\_\_\_\_.

**12** Ниже в табличной форме представлен фрагмент базы данных о погоде:

Дата	Температура (°С)	Давление (мм рт. ст.)	Ветер (м/с)	Осадки
1.05.2010	17	754	9	нет
2.05.2010	16	752	11	нет
3.05.2010	14	749	15	нет
4.05.2010	14	747	17	дождь
5.05.2010	15	745	14	дождь
6.05.2010	13	750	13	дождь
7.05.2010	12	751	8	нет
8.05.2010	15	749	5	нет

Сколько записей в данном фрагменте удовлетворяют условию **(Осадки = «дождь») ИЛИ (Давление < 750)?**

В ответе укажите одно число – искомое количество записей.

Ответ: \_\_\_\_\_.

**13** Переведите число 111 из десятичной системы счисления в двоичную систему счисления. Сколько единиц содержит полученное число?

В ответе укажите одно число – количество единиц.

Ответ: \_\_\_\_\_.

**14** Дан фрагмент электронной таблицы, в которой символ «\$» используется для обозначения абсолютной адресации:

	A	B	C	D
1	6	8		4
2	4	1	5	=B\$1/2+\$B2*3

Формулу, записанную в ячейке D2, скопировали в буфер обмена и вставили в ячейку C1, при этом изменились относительные ссылки, использованные в формуле. Определите значение формулы, которая окажется в ячейке C1.

В ответе укажите одно число – значение формулы.

Ответ: \_\_\_\_\_.

15

Даны два фрагмента текста из произведения Н.В. Гоголя «Мёртвые души». В обоих фрагментах используется шрифт одного и того же семейства (гарнитуры).

Какое странное, и манящее, и несущее, и чудесное в слове: дорога! и как чудна она сама, эта дорога: ясный день, осенние листья, холодный воздух... покрепче в дорожную шинель, шапку на уши, тесней и уютней прижмешься к углу! В последний раз пробежавшая дрожь прохватила члены, и уже сменила её приятная теплота. Кони мчатся... как соблазнительно крадётся дремота и смежаются очи, и уже сквозь сон слышатся: и «Не белы снега», и сап лошадей, и шум колес, и уже храпишь, прижавши к углу своего соседа. Проснулся: пять станций убежало назад, луна, неведомый город, церкви с старинными деревянными куполами и чернеющими остроконечьями, тёмные бревенчатые и белые каменные дома. Сияние месяца там и там: будто белые полотняные платки развешались по стенам, по мостовой, по улицам; косяками пересекают их чёрные, как уголь, тени; подобно сверкающему металлу, блистают вкось озарённые деревянные крыши, и нигде ни души – всё спит.

Не так ли и ты, Русь, что бойкая необгонимая тройка, несёшься? Дымом дымится под тобою дорога, гремят мосты, всё отстает и остаётся позади. Остановился поражённый божьим чудом созерцатель: не молния ли это, сброшенная с неба? Что значит это наводящее ужас движение? и что за неведомая сила заключена в сих неведомых светом конях? Эх, кони, кони, что за кони! Вихри ли сидят в ваших гривах? Чуткое ли ухо горит во всякой вашей жилке? Заслышали с вышины знакомую песню, дружно и разом напрягли медные груди и, почти не тронув копытами земли, превратились в одни вытянутые линии, летящие по воздуху, и мчится, вся вдохновенная богом! Русь, куда ж несёшься ты, дай ответ? Не даёт ответа.

Какие из перечисленных ниже свойств символов и абзацев различаются для левого и правого фрагментов текста? В ответе перечислите номера различающихся свойств в порядке возрастания, например 134.

- 1) Начертание шрифта (прямое, курсивное)
- 2) Размер шрифта
- 3) Насыщенность шрифта (обычный, полужирный)
- 4) Выравнивание строк (левое, правое, по центру, по ширине)

Ответ: \_\_\_\_\_.

**16** У исполнителя Вычислитель две команды, которым присвоены номера:

**1. вычти один**

**2. возведи в квадрат**

Первая из них уменьшает число на экране на 1, вторая – возводит его во вторую степень.

Составьте алгоритм получения из числа 3 числа 62, содержащий не более 5 команд. В ответе запишите только номера команд.

(Например, **12112** – это алгоритм

**вычти один**

**возведи в квадрат**

**вычти один**

**вычти один**

**возведи в квадрат**

который преобразует число 4 в 49.)

Если таких алгоритмов более одного, то запишите любой из них.

Ответ: \_\_\_\_\_.

**17** Скорость передачи данных через ADSL-соединение равна 512000 бит/с.

Передача файла через данное соединение заняла 8 секунд. Определите размер файла в Кбайтах.

Ответ: \_\_\_\_\_.

**18** Некоторый алгоритм из одной цепочки символов получает новую цепочку следующим образом. Сначала вычисляется длина исходной цепочки символов; если она нечётна, то после последнего символа цепочки добавляется средний символ, а если чётна, то в середину цепочки символов вставляется символ **1**. В полученной цепочке символов каждая цифра заменяется на предыдущую (**1** заменяется на **0**, **2** – на **1**, и т. д., а **0** заменяется на **9**).

Получившаяся таким образом цепочка является результатом работы алгоритма.

Например, если исходной цепочкой была цепочка **456**, то результатом работы алгоритма будет цепочка **3454**, а если исходной цепочкой была **5203**, то результатом работы алгоритма будет цепочка **41092**.

Дана цепочка символов **4732**. Какая цепочка символов получится, если к данной цепочке применить описанный алгоритм дважды (то есть применить алгоритм к данной цепочке, а затем к результату вновь применить алгоритм)?

Ответ: \_\_\_\_\_.



**19** Доступ к файлу **summer.htm**, находящемуся на сервере **seasons.com**, осуществляется по протоколу **http**. В таблице фрагменты адреса файла закодированы буквами от А до Ж. Запишите последовательность этих букв, кодирующую адрес указанного файла в сети Интернет.

- А) .htm
- Б) ://
- В) seasons
- Г) http
- Д) .com
- Е) /
- Ж) summer

Ответ: \_\_\_\_\_.

**20** В таблице приведены запросы к поисковому серверу. Расположите обозначения запросов в порядке **убывания** количества страниц, которые найдёт поисковый сервер по каждому запросу. Для обозначения логической операции «ИЛИ» в запросе используется символ |, а для логической операции «И» - &.

- А) Театр | Балет
- Б) Театр & Балет
- В) Театр | Балет | Премьера
- Г) Театр & Балет & Премьера

Ответ: \_\_\_\_\_.

## Часть 3


**Задания этой части (21–23) выполняются на компьютере. Результатом исполнения задания является отдельный файл (для одного задания – один файл). Формат файла, его имя и каталог для сохранения вам сообщат организаторы экзамена.**

- 21** Создайте в текстовом редакторе документ и напишите в нём следующий текст, точно воспроизведя всё оформление текста, имеющееся в образце. Данный текст должен быть написан шрифтом размером 14 пунктов. Основной текст выровнен по ширине, и первая строка абзаца имеет отступ в 1,5 см. В тексте есть слова, выделенные жирным шрифтом и курсивом. При этом допустимо, чтобы ширина вашего текста отличалась от ширины текста в примере, поскольку ширина текста зависит от размера страницы и полей. В этом случае разбиение текста на строки должно соответствовать стандартной ширине абзаца. Вставьте рисунок из набора стандартных фигур и разместите его справа от текста с обтеканием вокруг рамки. Текст сохраните в файле.

**КРУГ**

*Кругом* называется фигура, которая состоит из всех точек плоскости, находящихся на расстоянии не больше данного от данной точки. Эта точка называется *центром* круга, а данное расстояние – *радиусом* круга. *Границей* круга является окружность с теми же центром и радиусом.

**Площадь круга** вычисляется по формуле  $S = \pi R^2$ , где  $R$  – радиус круга.



22

В электронную таблицу занесли результаты тестирования учащихся по математике и физике. На рисунке приведены первые строки получившейся таблицы.

	<b>А</b>	<b>В</b>	<b>С</b>	<b>Д</b>	<b>Е</b>
<b>1</b>	<i>Ученик</i>	<i>Район</i>	<i>Математика</i>	<i>Физика</i>	
<b>2</b>	Шамшин Владислав	Майский	65	79	
<b>3</b>	Гришин Борис	Заречный	52	30	
<b>4</b>	Огородников Николай	Подгорный	60	27	
<b>5</b>	Богданов Виктор	Центральный	98	86	

В столбце А указаны фамилия и имя учащегося; в столбце В – район города, в котором расположена школа учащегося; в столбцах С, Д – баллы, полученные по математике и физике. По каждому предмету можно было набрать от 0 до 100 баллов.

Всего в электронную таблицу были занесены данные по 1000 учащимся. Порядок записей в таблице произвольный.

**Выполните задание.**

Откройте файл с данной электронной таблицей (расположение файла вам сообщат организаторы экзамена). На основании данных, содержащихся в этой таблице, ответьте на два вопроса.

1. Сколько участников набрали более 160 баллов в сумме по двум предметам? Ответ на этот вопрос запишите в ячейку G1 таблицы.
2. Чему равен минимальный балл по математике у учащихся Заречного района? Ответ на этот вопрос запишите в ячейку G2 таблицы.

Полученную таблицу необходимо сохранить под именем, указанным организаторами экзамена.

**Выберите ОДНО из предложенных ниже заданий: 23.1 или 23.2.**

**23.1** Исполнитель Робот умеет перемещаться по лабиринту, начерченному на плоскости, разбитой на клетки. Ниже приведено описание Робота.

У Робота есть четыре команды перемещения:

**вверх**

**вниз**

**влево**

**вправо**

При выполнении любой из этих команд Робот перемещается на одну клетку соответственно: вверх ↑, вниз ↓, влево ←, вправо →.

Между соседними (по сторонам) клетками может стоять стена, через которую Робот пройти не может. Если Робот получает команду передвижения через стену, то он разрушается.

Четыре команды проверяют истинность условия отсутствия стены у каждой стороны той клетки, где находится Робот:

**сверху свободно**

**снизу свободно**

**слева свободно**

**справа свободно**

Эти команды можно использовать вместе с условием «если», имеющим следующий вид:

**если <условие> то**

*последовательность команд*

**все**

«Последовательность команд» – это одна или несколько любых команд, выполняемых Роботом. Например, для передвижения на одну клетку вправо, если справа нет стены, можно использовать такой алгоритм:

**если справа свободно то**

**вправо**

**все**

В одном условии можно использовать несколько команд, применяя логические связки **и**, **или**, **не**, например:

**если (справа свободно) и (не снизу свободно) то**

**вправо**

**все**

Для повторения последовательности команд можно использовать цикл «пока», имеющий следующий вид:

**нц пока <условие>**

*последовательность команд*

**кц**

Например, для движения вправо, пока это возможно, можно использовать следующий алгоритм:

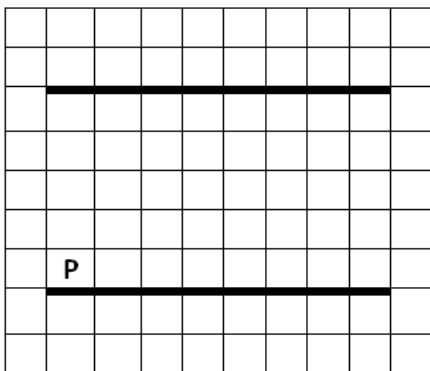
**нц пока справа свободно  
вправо  
кц**

Также у Робота есть команда **закрасить**, закрашивающая клетку, в которой Робот находится в настоящий момент.

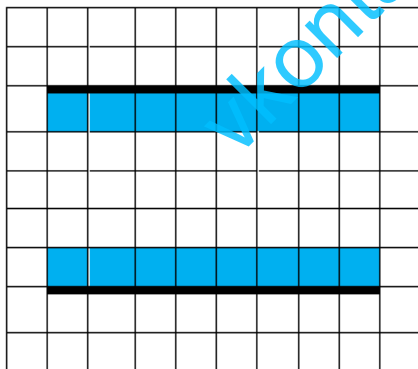
**Выполните задание.**

На бесконечном поле имеются две горизонтальная стены одинаковой длины, расположенные точно одна над другой. **Длина стен неизвестна. Расстояние между стенами неизвестно.** Робот находится над нижней стеной в клетке, расположенной у её левого края.

На рисунке указан один из возможных способов расположения стен и Робота (Робот обозначен буквой «Р»):



Напишите для Робота алгоритм, закрашивающий все клетки, расположенные выше нижней стены и ниже верхней стены и прилегающие к ним. Робот должен закрасить только клетки, удовлетворяющие данному условию. Например, для приведённого выше рисунка Робот должен закрасить следующие клетки (см. рисунок):



Конечное расположение Робота может быть произвольным. Алгоритм должен решать задачу для произвольного размера поля и любого допустимого расположения стен внутри прямоугольного поля. При исполнении алгоритма Робот не должен разрушиться.

Алгоритм напишите в текстовом редакторе и сохраните в текстовом файле. Название файла и каталог для сохранения вам сообщат организаторы экзамена.

**23.2** Напишите программу, которая в последовательности целых чисел определяет количество чисел, кратных 5 или 7. Программа получает на вход целые числа, количество введённых чисел неизвестно, последовательность чисел заканчивается числом 0 (0 – признак окончания ввода, не входит в последовательность). Количество чисел не превышает 1000. Введённые числа по модулю не превышают 30000. Программа должна вывести одно число: количество чисел, кратных 5 или 7.

**Пример работы программы:**

Входные данные	Выходные данные
-22 25 -14 0	2

[vkontakte.ru/egge100ballon](https://vkontakte.ru/egge100ballon)